

# Departamento de Geografía e Historia

Actividades de recuperación de 1º de la ESO

Curso

**Cuadernillo nº 1**

Alumno \_\_\_\_\_

Este cuadernillo se entregará, una vez completado, al profesor del presente curso, antes **del 16 de diciembre** del presente curso. Para realizarlo deberá consultar el libro de texto de 1º de ESO de la editorial Santillana, o de cualquier otra editorial que haya utilizado en ese curso, así como cualquier enciclopedia que el alumno tenga en casa o que haya en la biblioteca del centro, o a través de Internet. Cualquier duda que tenga el alumno la consultará con su profesor o con el jefe del Departamento de Geografía e Historia.

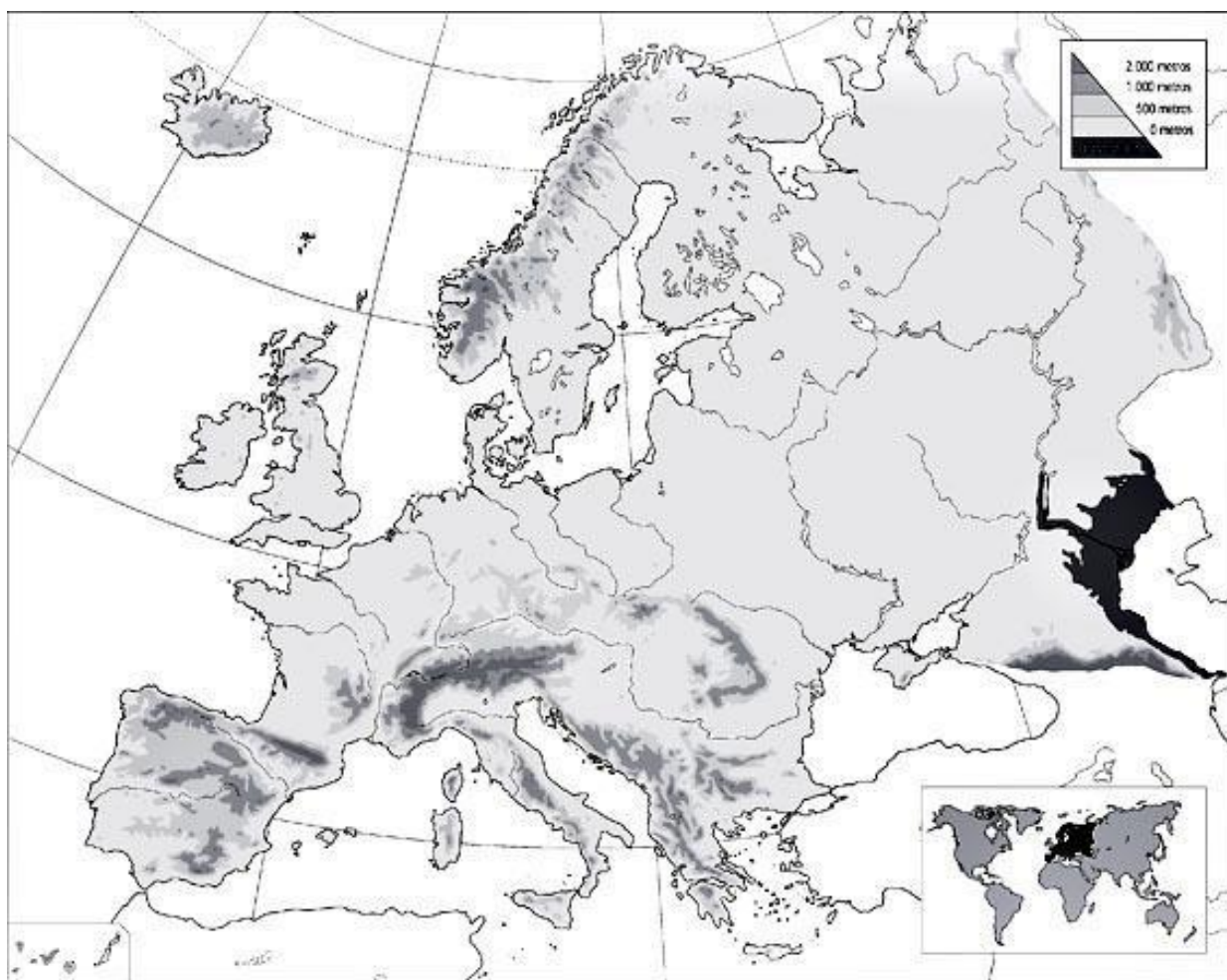
**I.E.S. JUAN DE HERRERA**



SAN LORENZO DE EL ESCORIAL

1.- En el mapa de Europa sitúa los siguientes:

- MARES: Mediterráneo, Egeo, Adriático, Mar del Norte, Báltico, Cantábrico, Mar Negro, Mar Caspio, Canal de la Mancha y Estrecho de Gibraltar.
- RÍOS: Sena, Loira, Rin, Támesis, Tíber, Po, Danubio, Volga, Dniéper, Don
- CORDILLERAS: Alpes, Cárpatos, Apeninos, Montes Escandinavos, Urales y Cáucaso



2.- En este PLANISFERIO sitúa:

- CORDILLERAS: Rocosas, Andes, Atlas, Himalaya, Urales, Cáucaso y Gran Cordillera Divisoria.
- RÍOS: Misisipi, Amazonas, Orinoco, Paraná, Río de la Plata, Nilo, Congo, Níger, Tigris, Éufrates, Indo, Ganges, Obi, Huáng Hé (Amarillo).
- LOS CINCO GRANDES OCÉANOS Y LOS SIGUIENTES MARES: Caribe, Golfo de Méjico, Rojo, Golfo Pérsico, Golfo de Guinea, Golfo de Bengala, Mar de China Meridional, Mar del Japón, Mar Caspio.

Sitúa también los cuatro puntos cardinales en los márgenes del mapa y pon en letras mayúsculas los nombres de los continentes.



3.-En estos dos mapas escribe:

a) el nombre de todas las provincias



b) las Comunidades Autónomas, pintando estas últimas de diferentes colores.



4.- Busca en un Atlas las siguientes ciudades y escribe al lado de su nombre la latitud y la longitud en la que se encuentran.

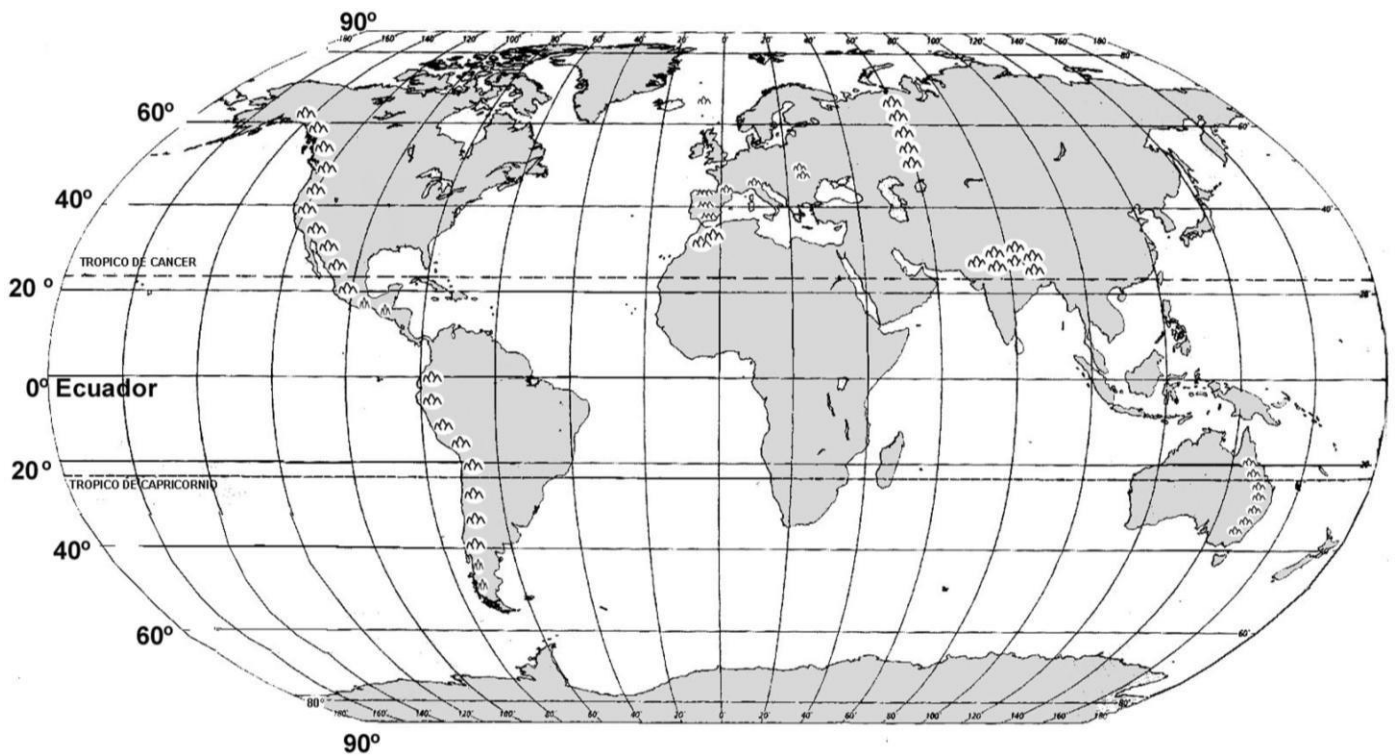
Montreal:

Lagos:

El Cairo:

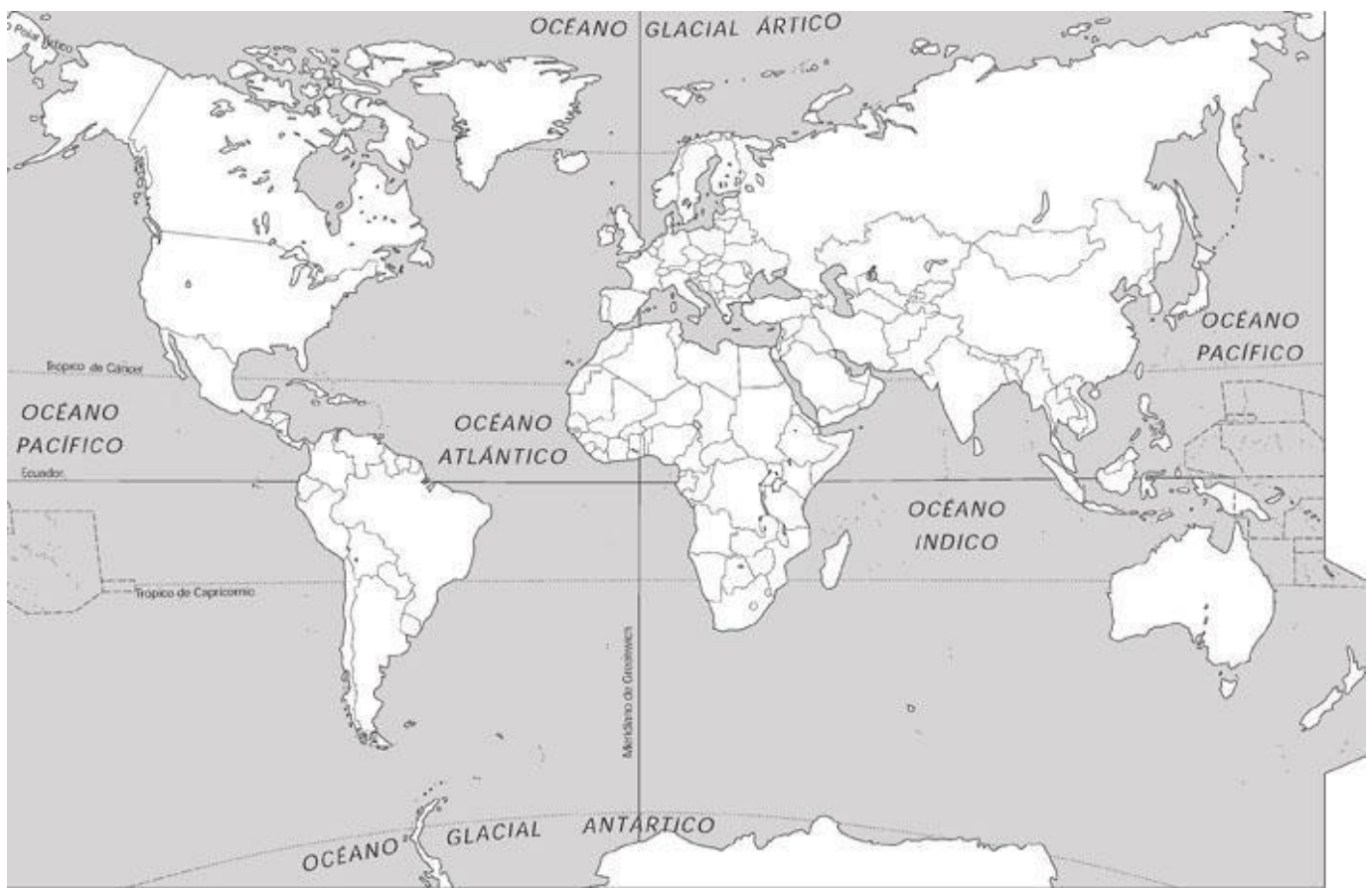
Madrid:

Sitúalas en este mapa del mundo:



5.- En el siguiente planisferio político escribe el nombre de los siguientes países y sus respectivas capitales.

- a) América: Canadá, Estados Unidos, Méjico, Cuba, Santo Domingo, Brasil, Argentina, Chile, Perú, Venezuela y Colombia.
- b) África: Marruecos, Argelia, Túnez, Libia, Egipto, Madagascar, Sudáfrica.
- c) Asia: Arabia Saudí, Iraq, Irán, India, China, Japón, Filipinas.
- d) Oceanía: Australia y Nueva Zelanda.



**5. Glosario:** Define los siguientes términos (si necesitas más espacio puedes añadir una hoja)

Satélite

Estrella

Biosfera

Galaxia

Equinoccio

Meridianos

Latitud

Escala

Cartografía

Hemisferio

6. Haz dos dibujos, uno del Sistema Solar y otro de la estructura interna de la Tierra, poniendo los nombres de los planetas y los nombres de las diferentes capas del interior de la tierra.



**7. Movimientos de la Tierra:**

a) ¿En qué consiste el movimiento de rotación? ¿A qué da lugar?

b) ¿En qué consiste el movimiento de traslación? ¿A qué da lugar?

**8. Glosario: Define los siguientes términos:**

Montañas

Mesetas

Llanuras

Depresiones

Dorsales oceánicas

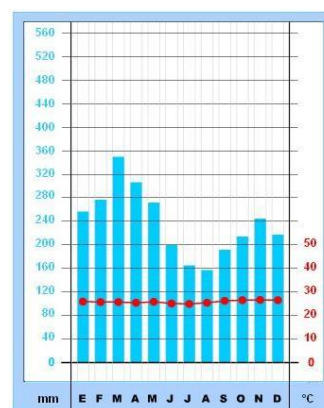
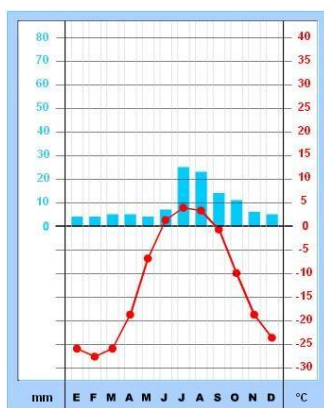
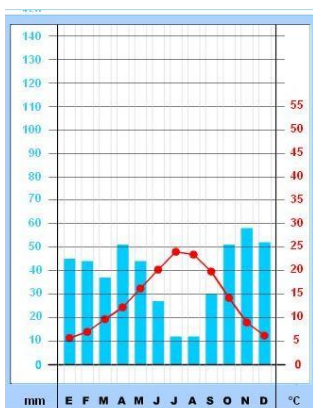
**9. ¿En qué consiste la teoría de la deriva de los continentes?**

10. Dibujo de las partes de un volcán.

**11.** ¿En qué consisten la erosión, el transporte y la sedimentación?

**12.** Haz un esquema de los distintos tipos de climas y de la vegetación.

13. Observa y analiza los siguientes climogramas y escribe debajo si pertenecen a un clima cálido, templado o frío, y si pertenecen a un clima lluvioso, desértico o de precipitaciones moderadas.



14. Cita cuatro efectos de la actividad humana sobre el medio natural, explicándolo brevemente:

18. Mapa de ríos. En el mapa de la parte inferior de la hoja haz las siguientes actividades:

- Escribe el nombre de todos los ríos que aparecen.
- Escribe que características tienen en común los ríos que desembocan en el mar:

Mediterráneo:

Atlántico:

Cantábrico:

- Pinta las grandes cordilleras que separan las cuencas de estos ríos y escribe su nombre.

